

به نام خدا

مدرسه: غیردولتی اختران

ارزشیابی نوبت دوم ریاضی

تاریخ:

پایه دوم ابتدایی

نام و نام خانوادگی:

آموزگار: آرزو آذرمهری

۱ عزیزم، الگوها را ادامه بده.

.....-.....-.....-.....-.....-..... ۶۵۰-۶۵۵-۶۶۰ ..... ۸۹۰-۹۰۰-۹۱۰

۲ علامت <=> بگذار. ۲۰۰+۱۰۰+۹۰  ۱۰۰+۱۰۰ ۲۵۶  ۲۶۵

۲۲

+ ۴۸

.....

۱۰۰+۱+۱+۳+۲+۱+۱+۱

۳۷  ۱+۳۶

۳ با کارت های ۳-۵-۸، چهار عدد سه رقمی و چهار عدد دورقمی بساز و جدول زیر را کامل کن.

عدد سه رقمی			عدد دورقمی		
زوج یا فرد	حروف	عدد	زوج یا فرد	حروف	عدد

۴ در شمارش ده تا ده تا هر عدد بین چه اعدادی قرار دارد و به کدام عدد نزدیکتر است.

۵۱ بین ..... و ..... و به ..... نزدیکتر است. ۹۸ بین ..... و ..... و به ..... نزدیکتر است. ۲۵۶ بین ..... و ..... و به ..... نزدیکتر است.

۵ در یک کوچه، روی هم ۵ تا دوچرخه و سه چرخه هستند. آن ها روی هم ۱۲ چرخ دارند. در این کوچه چندتا دوچرخه و سه چرخه است؟

دوچرخه  سه چرخه

حدس اول : ..... و ..... = تعداد چرخ ها

حدس دوم : ..... و ..... = تعداد چرخ ها

۶ مریم از گل فروشی ۳ شاخه گل نرگس، ۴ شاخه گل یاس و ۱۰ شاخه گل سرخ خرید. قیمت گل نرگس شاخه ای ۵۰ ریال، گل یاس شاخه ای ۲۵ ریال و

گل سرخ شاخه ای ۱۰ ریال است. مریم چند ریال باید به گل فروش پول بدهد؟ (بارسم شکل و جلونویسی)

۷ موسی ۸۵۴ سگه داشت. دیروز صبح ۲۶۹ سگه را خرج کرد و امروز ۴۷۱ سگه را خرج کرد. چند سگه برای او باقی مانده است؟

۸ جمع و تفریق های زیر را انجام بده.

به روش انتقالی	به روش انتقالی	به روش انتقالی	به روش انتقالی	به روش انتقالی	به روش انتقالی
۲۵۱	۸۷۸	۲۵۳	۴۷۱	۹۸۲	۷۱۵
+ ۴۳۸	- ۳۲۴	+ ۴۳۹	+ ۳۹۹	- ۴۴۴	- ۲۹۸

عزیزم کامل کن.

۹


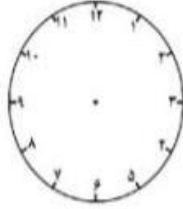


۳ تا ۵ تایی می شود .....

شکل بکش

..... تا ..... تایی می شود .....

زمان ها را بنویس.

۱۰



.....

.....

۷:۵۵

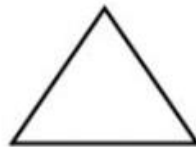
دقیقه گذشته از ساعت .....

دقیقه مانده به ساعت .....

۲۰ دقیقه بعد ← .....

طول هر ضلع را به میلی متر بنویس و خط تقارن هر شکل را رسم کن.

۱۱



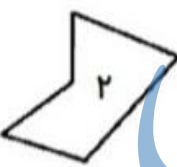
۸۹ میلی متر یعنی ..... سانتی متر و ..... قسمت از ..... قسمت کوچک.

۲۴ میلی متر یعنی ..... سانتی متر و ..... میلی متر

۱۲

تفاوت و شباهت این دو شکل را بنویس.

۱۳

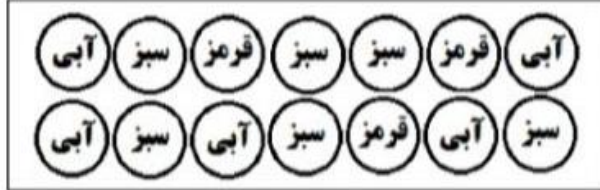


تفاوت: .....

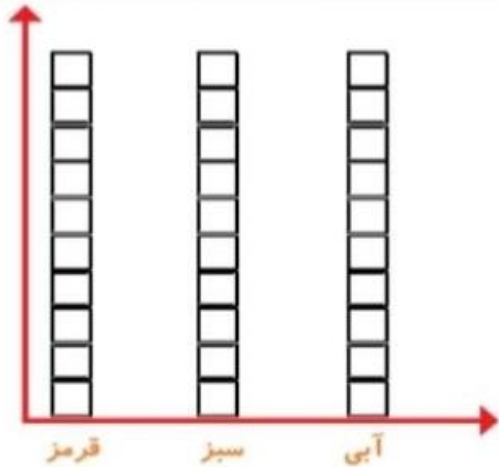
شباهت: .....

جدول زیر را کامل کن و نمودار آن را رسم کن.

۱۴



چوب خط	عدد	تقریب	
			مهره قرمز
			مهره آبی
			مهره سبز
			جمع کل



اگر بدون نگاه کردن به داخل کیسه، یک مهره انتخاب کنیم،

احتمال بیرون آمدن کدام مهره بیشتر است؟ .....

چرا؟ .....

.....

سر بلند باشی عزیزم

بازخورد آموزگار:

بازخورد والدین: